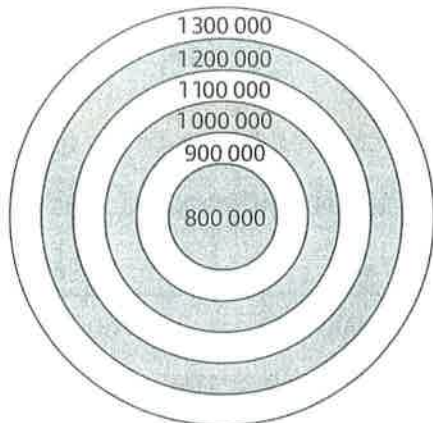


ARRONDIR DES NOMBRES ENTIERS

1 **Prolonge** les flèches pour les planter dans le nombre arrondi à la centaine de mille la plus proche.

1 179 585
1 012 357
894 204
789 542
1 321 548
1 193 542



2 **Colorie** d'une même couleur le nombre et son arrondi à la dizaine de mille la plus proche.

5 954 598	5 917 987	
399 598	5 960 000	
360 000	391 629	366 521
370 000	5 970 000	
390 000	5 961 689	361 387
5 920 000	5 950 000	
5 973 594	400 000	

3 **Arrondis** ces nombres à l'unité de mille la plus proche.

761 021 →	3 369 745 →	297 895 →
8 951 984 →	58 321 →	54 898 125 →

ENCADRER DES NOMBRES ENTIERS

4 **Relie** le nombre central aux nombres qui l'encadrent à l'unité de million.

7 000 000 ●	6 512 598 ●	5 000 000 ●
6 000 000 ●	5 269 054 ●	8 000 000 ●
5 000 000 ●	7 159 220 ●	9 000 000 ●
8 000 000 ●	4 980 514 ●	7 000 000 ●
4 000 000 ●	8 941 598 ●	6 000 000 ●

5 **Encadre** le nombre à l'unité de mille comme dans l'exemple.

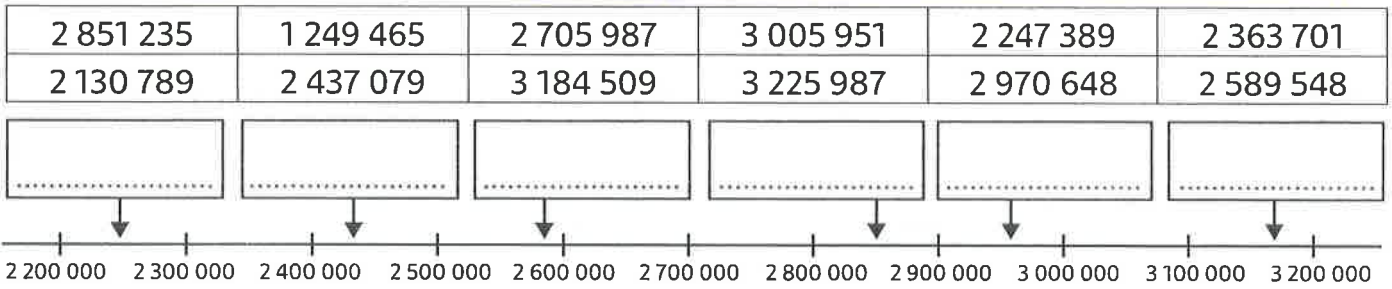
6 524 000 < 6 524 950 < 6 525 000 < 1 598 504 <
..... < 24 684 790 < < 2 449 651 <
..... < 358 985 < < 4 208 735 <
..... < 7 962 057 < < 30 025 487 <

6 **Entoure** la bonne réponse.

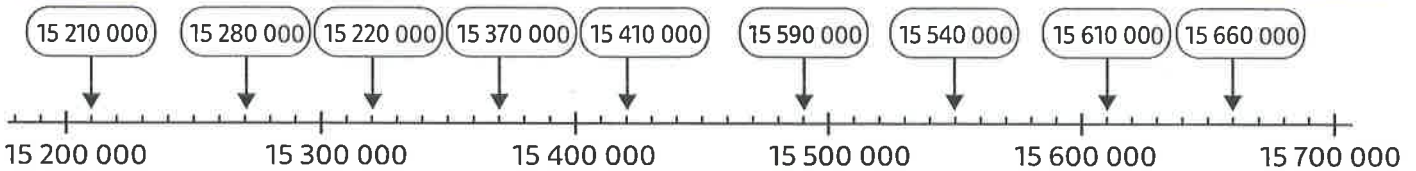
42 321 125 est plus proche de :	42 300 000	42 400 000	42 500 000
358 974 est plus proche de :	340 000	350 000	360 000
1 598 126 est plus proche de :	1 597 000	1 598 000	1 599 000
431 897 620 est plus proche de :	430 000 000	431 000 000	432 000 000

PLACER DES NOMBRES ENTIERS SUR UNE DROITE GRADUÉE

7 Place les nombres dans les bonnes cases sur la droite graduée. Attention aux intrus !



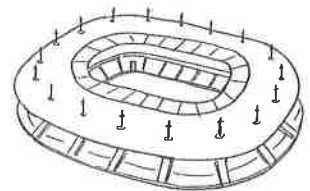
8 Colorie en vert les étiquettes qui sont bien placées et en rouge celles qui sont mal placées.



LES MATHS DANS LA VIE

9 Le stade de France peut accueillir 81 338 spectateurs. Lors de la prochaine Coupe d'Europe, sept matchs y sont prévus.

Sans poser l'opération, indique aux organisateurs s'ils doivent imprimer plus ou moins de 550 000 billets.



DÉFI

10 Barre tous les nombres qui ne correspondent pas à chaque définition et retrouve ainsi le nombre mystère.

6 021 569
5 563 781
5 453 598
5 564 025

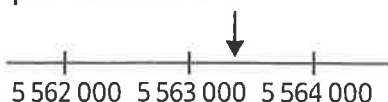
5 563 259
5 563 698
5 563 602

5 562 524
5 578 304
5 554 632
4 853 000

① Mon nombre est encadré par $5\,000\,000 < \dots < 6\,000\,000$.

② Mon nombre arrondi à la dizaine de mille est 5 560 000.

③ Mon nombre est indiqué sur cette droite graduée par la flèche :



④ Mon nombre est celui dont la valeur approchée à la centaine est 5 563 700.

Le nombre mystère est :

.....